

1*	Miejsce egzaminu	
2*	Numer kandydata	
3*	Kierunek studiów	
4	Liczba uzyskanych punktów	/100

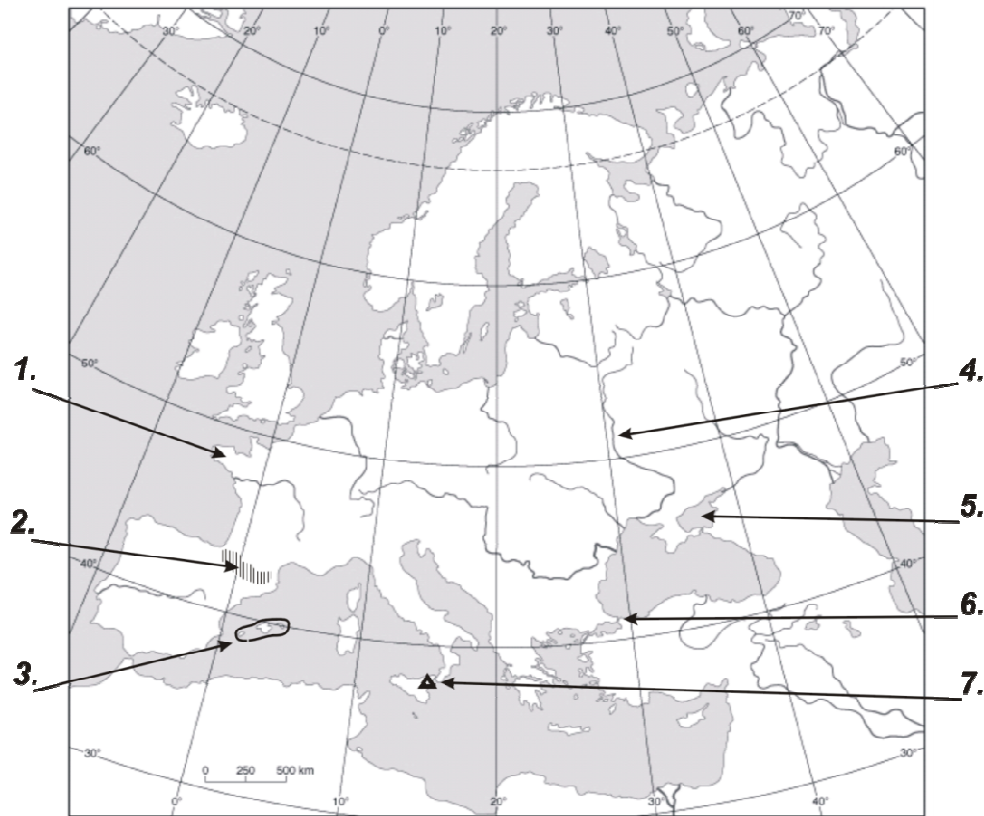
*** wypełnia kandydat**

T E S T Z G E O G R A F I I

Test rekrutacyjny dla kandydatów na studia w Polsce

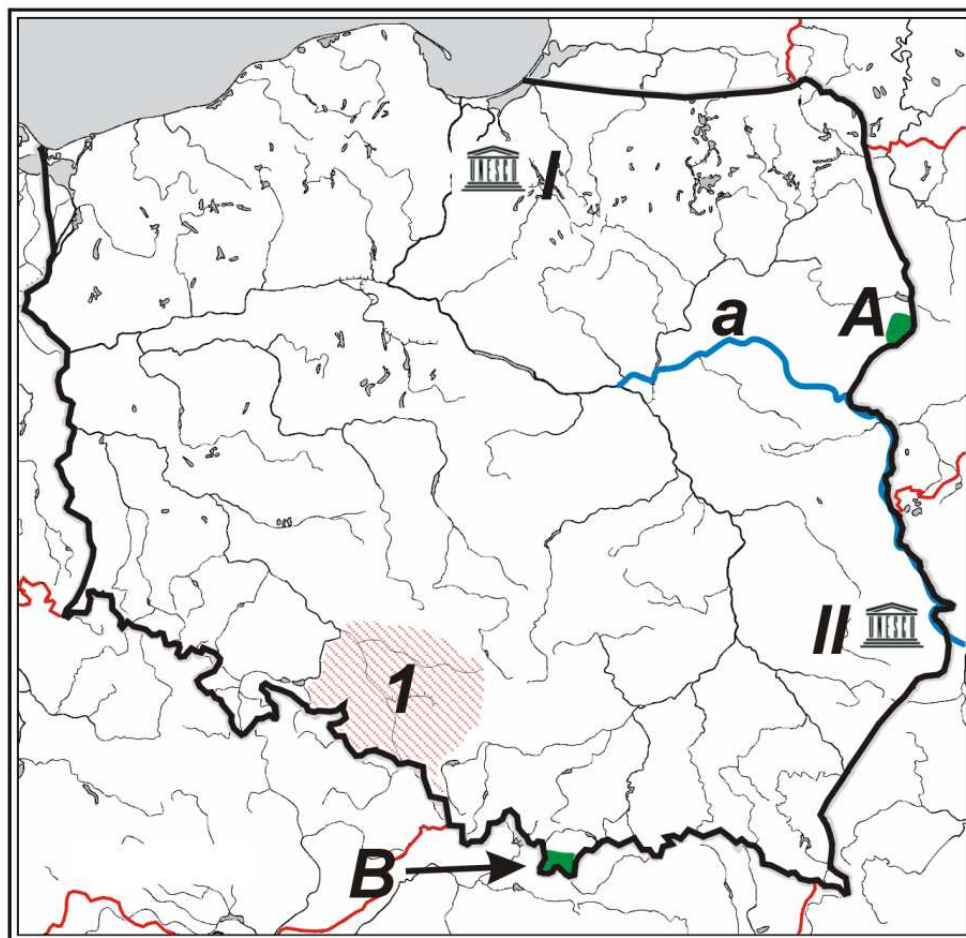
WERSJA I - A

2013 rok



1. Cyfrą **1** oznaczono na mapie Półwysep
 A) Francuski. B) Bretoński. C) Jutlandzki. D) Cotentin.
2. Jak nazywa się pasmo górskie zaznaczone na mapie cyfrą **2**?
 A) Góry Betyckie. B) Alpy. C) Apeniny. D) Pireneje.
3. Cyfrą **3** oznaczono na mapie
 A) Baleary. B) Orkady. C) Cyklady. D) Sporady.
4. Cyfrą **4** oznaczono na mapie rzekę
 A) Wołgę. B) Dunaj. C) Dniepr. D) Dniestr.
5. Cyfra **5** na mapie przedstawia obszar Morza
 A) Adriatyckiego. B) Czarnego. C) Azowskiego. D) Egejskiego.
6. Cyfrą **6** zaznaczono na mapie Cieśninę
 A) Bosfor. B) Dardanele. C) Kaletańską. D) Gibraltarską.
7. Cyfrą **7** na mapie zaznaczono wulkan
 A) Hekla. B) Wezuwiusz. C) Etna. D) Askja.
8. Która prawidłowość funkcjonowania systemu przyrodniczego Ziemi jest spowodowana kształtem naszej planety?
 A) Zmiany temperatury powietrza wraz ze wzrostem wysokości nad poziomem morza.
 B) Spadek średniej rocznej temperatury powietrza ze wzrostem szerokości geograficznej.
 C) Wzrost liczby opadów na wybrzeżach mórz i oceanów.
 D) Piętrowe zróżnicowanie roślinności występujące w górach.

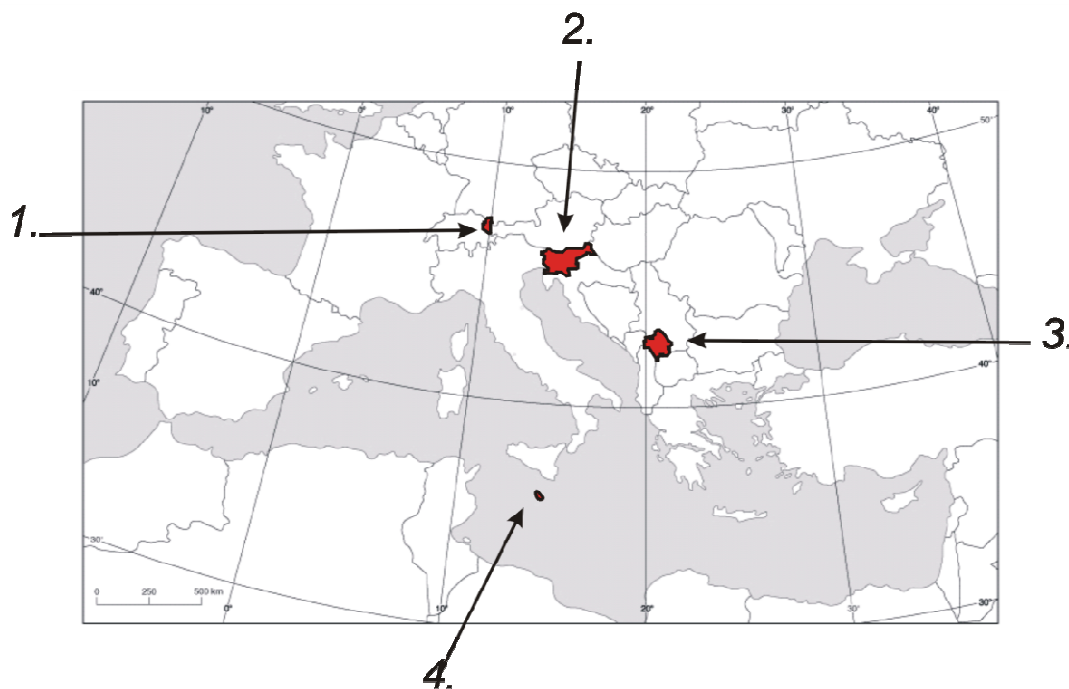
9. Odległość rzeczywista między dwoma miastami wynosi 12,5 km, zaś zmierzona na mapie 50 cm. W jakiej skali sporządzono mapę?
 A) 1:500 000. B) 1:50. C) 1cm – 12,5 km. D) 1cm – 0,25 km.
10. W czterech polskich miastach: Słubicach (52°20'N, 14°22'E), Brześciu (52°07'N, 23°40'E), Łebie (54°40'N, 17°30'E), Zakopanem (49°20'N, 19°50'E) obserwowano długość dnia i nocy latem i zimą. W której miejscowości dzień jest najdłuższy latem?
 A) W Słubicach. B) W Brześciu. C) W Łebie. D) W Zakopanem.
11. Turysta wybierający się na wycieczkę w góry sprawdził temperaturę na wysokości 900 m n.p.m. Wynosiła ona 15°C. Jakiej temperatury mógł spodziewać się turysta na wysokości 2500 m n.p.m.?
 A) 31°C. B) 15°C. C) 5,4°C. D) 24,6°C.
12. Klimaty astrefowe występują
 A) na nizinach. B) na wyżynach. C) w górach. D) w depresjach.
13. Które zestawienie prawidłowo opisuje obszary występowania gejzerów?
 A) Wyspa Kiusiu, Kamczatka, Islandia, Półwysep Arabski.
 B) Yellowstone, Islandia, Nowa Zelandia, Nizina Amazonki.
 C) Islandia, Kamczatka, Yellowstone, Nowa Zelandia.
 D) Wyspa Kiusiu, Kamczatka, Irlandia, Andy w Chile.



14. Rzymskimi cyframi **I** i **II** zaznaczono na mapie Polski obiekty turystyczne wpisane na Listę Światowego Dziedzictwa Kulturowego i Przyrodniczego UNESCO. Który zestaw prawidłowo opisuje zaznaczone obiekty?
- A) **I** – Toruń, **II** – Zamość. B) **I** – Malbork, **II** – Kraków.
 B) **I** – Gdańsk, **II** – Lublin. D) **I** – Malbork, **II** – Zamość.
15. Która mniejszość narodowa zamieszkuje obszar Polski oznaczony na mapie cyfrą **I**?
- A) Czeska. B) Słowacka. C) Niemiecka. D) Ukraińska.
16. Który zestaw prawidłowo opisuje nazwy parków narodowych zaznaczonych na mapie Polski literami **A** i **B**?
- A) **A** – Białowieski, **B** – Tatrzański. B) **A** – Białowieski, **B** – Karpacki.
 B) **A** – Mazurski, **B** – Tatrzański. D) **A** – Biebrzański, **B** – Karkonoski.
17. Która polska rzeka zaznaczona jest na mapie literą **a**?
- A) Wisła. B) Odra. C) Warta. D) Bug.
18. Które zestawienie w prawidłowy sposób podaje nazwę orogenezy, w której powstały góry?

	Góry	Orogeneza
I	Alpy, Andy	alpejska
II	Kordyliery, Pireneje	hercyńska
III	Grampiany, Góry Dynarskie	kaledońska
IV	Sudety i Karpaty	alpejska

- A) Tylko **I**. B) **II** i **III**. C) **I** i **IV**. D) Tylko **IV**.
19. Które przyporządkowanie w prawidłowy sposób łączy formacje roślinne z typowymi dla nich roślinami?
- | | |
|--------------------------------------|---------------------|
| 1. Tundra | a. świerk, modrzew |
| 2. Tajga | b. baobab, akacja |
| 3. Las liściasty strefy umiarkowanej | c. kakaowiec, liana |
| 4. Sawanna | d. brzoza karłowata |
| 5. Wilgotny las równikowy | e. pinia, oleander |
| | f. dąb, klon |
- A) 1a, 2b, 3c, 4d, 5e. B) 1d, 2a, 3f, 4b, 5c.
 C) 1e, 2a, 3f, 4c, 5b. D) 1f, 2e, 3d, 4b, 5c.
20. Której ery dotyczy poniższy opis? „W tym czasie powstały wielkie łańcuchy górskie, między innymi Alpy, Karpaty, Himalaje. To też czas tworzenia się pokładów węgla brunatnego powszechnie występującego w wielu krajach Europy Środkowej.”
- A) Neogenu. B) Kenozoiku. C) Mezozoiku. D) Paleozoiku.



21. Na fragmencie mapy politycznej Europy zaznaczono cztery państwa. Które przyporządkowanie w prawidłowy sposób je opisuje?
- A) 1 – Luksemburg, 2 – Szwajcaria, 3 – Macedonia, 4 – Cypr.
 B) 1 – Liechtenstein, 2 – Słowenia, 3 – Kosowo, 4 – Malta.
 C) 1 – Liechtenstein, 2 – Chorwacja, 3 – Czarnogóra, 4 – San Marino.
 D) 1 – Austria, 2 – Szwajcaria, 3 – Serbia, 4 – Malta.
 E) 1 – Szwajcaria, 2 – Austria, 3 – Kosowo, 4 – Malta.
22. „W fizjonomii miast wyróżnia się prostokątny układ ulic, które często nie mają nazw, tylko kolejne numery. Centrum stanowi nagromadzenie kilkusetmetrowych drapaczy chmur, na obrzeżach dominuje budownictwo parterowe o funkcji mieszkaniowej”. W którym regionie świata występują miasta, których typowe cechy przedstawia opis?
- A) W Europie.
 B) W Ameryce Północnej.
 C) W Ameryce Południowej.
 D) W Azji Południowej.
 E) Na Bliskim Wschodzie.
23. Które zestawienie prawidłowo łączy nazwy miast z typem zespołu miejskiego?
- | | |
|--------------------------------|-------------------------------|
| 1. Londyn, Wimbledon, Luton | a. aglomeracja monocentryczna |
| 2. Chicago, Detroit, Pittsburg | b. aglomeracja policentryczna |
| 3. Duisburg, Bochum, Dortmund | c. megalopolis |
| 4. Łódź, Zgierz, Pabianice | |
- A) 1a, 2b, 3c.
 B) 1a, 2c, 3b, 4a.
 C) 1a, 2c, 3c, 4b.
 D) 1c, 2c, 3c, 4a.
 E) 1b, 2c, 3b.
24. Najwięcej „mega miast” czyli miast o liczbie ludności przekraczającej 10 milionów mieszkańców jest położonych w
- A) Europie.
 B) Ameryce Północnej.
 C) Ameryce Południowej
 D) Afryce.
 E) Azji.

25. Które zestawienie nie jest prawidłowe?

	<i>Kraj</i>	<i>Stolica</i>	<i>Język urzędowy</i>
<i>I</i>	Szwajcaria	Berno	francuski
<i>II</i>	Kosowo	Prisztina	serbski
<i>III</i>	Andora	Andora la Vella	kataloński
<i>IV</i>	Belgia	Bruksela	włoski

- A) Tylko ***I***.
 B) ***II*** i ***III***.
 C) Tylko ***IV***.
 D) ***I*** i ***II***.
 E) Wszystkie zestawienia są prawidłowe.

26. Które zestawienie zawiera państwa europejskie zapisane według malejącej wartości wskaźnika urbanizacji?

- A) Rosja, Białoruś, Polska, Francja.
 B) Indie, Norwegia, Polska, Białoruś.
 C) Luksemburg, Belgia, Francja, Polska.
 D) Singapur, Francja, Dania, Czechy.
 E) Ukraina, Włochy, Francja, Wielka Brytania.

27. Przymusowe przesiedlenie osoby lub grupy osób, dokonywane na przykład w celach politycznych lub jako forma represji to

- A) migracja polityczna.
 B) migracja ekonomiczna.
 C) repatriacja.
 D) deportacja.
 E) ekstradycja.

28. Efektem migracji dla kraju emigracyjnego jest

- A) wzrost liczby ludności, wzrost przyrostu naturalnego, odmłodzenie społeczeństwa.
 B) spadek bezrobocia, mniejsze wydatki państwa na opiekę socjalną.
 C) napływ dobrze wykształconych pracowników.
 D) wzrost niepokojów społecznych, wywołanych prześladowaniami rasowymi.
 E) wzrost bezrobocia z powodu napływu dużej liczby emigrantów.

29. ***I.*** Na obecną strukturę wieku i płci ludności Polski wywarła wpływ II wojna światowa.

II. Urodzeni w drugiej połowie lat 60. w Polsce należą do wyżu demograficznego.

III. W strukturze ludności Polski największy udział ma ludność w wieku produkcyjnym.

IV. Wśród ludności do 40 roku życia występuje w Polsce nadwyżka kobiet nad mężczyznami.

Które zdanie jest ***fałszywe***?

- A) Tylko ***I***.
 B) ***II*** i ***IV***.
 C) Tylko ***II***.
 D) ***III*** i ***IV***.
 E) ***I*** i ***III***.

30. Który zestaw państw prawidłowo prezentuje europejskie monarchie?

- A) Szwecja, Norwegia, Dania, Islandia.
 B) Belgia, Holandia, Luksemburg, Francja.
 C) Hiszpania, Portugalia, Włochy, Francja.
 D) Wielka Brytania, Irlandia, Dania, Holandia.
 E) Andora, Monako, Liechtenstein, Luksemburg.

31. *I.* Według raportu FAO z 2008 roku na świecie stale odczuwał głód co ósmy człowiek.
II. Największy odsetek głodujących jest w Ameryce Południowej.
III. Najwięcej głodujących zamieszkuje Indie.
IV. Zjawisko głodu najsilniej dotyka grupę ludzi po trzydziestym roku życia.

Które zdanie jest prawdziwe?

- A) Tylko *I*.
 B) Tylko *I* i *III*.
 C) Tylko *II* i *III*.
 D) *III* i *IV*.
 E) *I*, *II* i *III*.

32. Które zestawienie jest prawidłowe?

1- węgiel kamienny, 2 – ropa naftowa, 3 – gaz ziemny, 4 – drewno, 5 – jądrowa

- a. Największe znaczenie tego surowca przypadło na XVIII wiek. Obecnie wykorzystywany jest w niewielkim stopniu do produkcji energii cieplnej.
 b. Rola tego surowca w bilansie energetycznym obecnie maleje, na początku XX wieku był najważniejszym surowcem energetycznym świata.
 c. Znaczenie tego surowca systematycznie wzrasta od początku XX wieku osiągając współcześnie w bilansie energetycznym wartość większą niż 20%.
 d. Jest dziś najważniejszym surowcem energetycznym, choć jego rosnący udział w bilansie energetycznym został zahamowany przez kryzys energetyczny lat 70. XX w.

- A) 1a, 2b, 3c, 4d.
 B) 1b, 2d, 3c, 4a.
 C) 1b, 2c, 3d, 4a.
 D) 1b, 2d, 4a, 5c.
 E) 1c, 2d, 3b, 5a.

33. Mirnyj, miasto położone w Jakucji na Syberii słynie z wydobywania

- A) złota.
 B) diamentów.
 C) platyny.
 D) ropy naftowej.
 E) ciosów mamutów.

34. Genewska Konwencja Międzynarodowego Prawa Morskiego z 1958 roku, jako szelf kontynentalny przyjęła przylegające do lądu dno morza

- A) o głębokości do 300 m.
 B) o głębokości do 200 m.
 C) o głębokości do 100 m.
 D) o szerokości do 12 mil morskich.
 E) o szerokości do 200 mil morskich.

35. Które określenie nie dotyczy źródeł zanieczyszczeń atmosfery?

- A) Pożary lasów.
 B) Wybuchy wulkanów.
 C) Elektrociepłownie.
 D) Elektrownie wiatrowe.
 E) Przemysł chemiczny.

36. Które zestawienie przedstawia prawidłową przynależność flagi do organizacji międzynarodowej?



1.



2.



3.

- A) 1 – Unia Europejska, 2 – ONZ, 3 – OECD.
 B) 1 – Unia Europejska, 2 – NATO, 3 – FAO.
 C) 1 – NATO, 2 – ONZ, 3 – WHO,
 D) 1 – NAFTA, 2 – NATO, 3 – UNICEF.
 E) 1 – Unia Europejska, 2 – NATO, 3 – ONZ.

37. Który kraj nie należy do Unii Europejskiej, ale graniczy wyłącznie z krajami tej wspólnoty?

- A) Szwajcaria. B) Luksemburg.
 C) Liechtenstein. D) Polska.
 E) Andora.

38. W których państwach Unii Europejskiej nie obowiązuje Stefa Schengen?

- A) W Polsce i na Słowacji. B) W Rumunii i w Bułgarii.
 C) W Wielkiej Brytanii i na Islandii. D) W Szwajcarii i w Norwegii.
 E) W Rosji i na Ukrainie.

39. Które przyporządkowanie jest fałszywe?

	Organy, organizacje wyspecjalizowane ONZ	Główne cele
I.	Rada Bezpieczeństwa	utrzymanie pokoju na świecie
II.	UNESCO	współpraca w dziedzinie oświaty, nauki i kultury
III.	FAO	rozwój rolnictwa, walka z głodem, rozwój obszarów wiejskich
IV.	UNHCR	pomoc uchodźcom

- A) Tylko **I**. B) **I** i **III**.
 C) **II** i **IV**. D) Tylko **IV**.
 E) Wszystkie przyporządkowania są prawidłowe.

40. Który z europejskich obszarów posiada status terytorium zależnego?

- A) Ceuta i Melilla. B) Aruba.
 C) Malta. D) Korsyka.
 E) Grenlandia.